

CBTIS 122

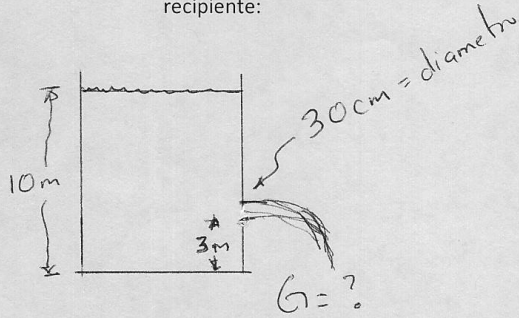
TEMAS DE FISICA 3ª UNIDAD

PROBLEMARIO No. 1 TEOREMA DE TORRICELLI

FACILITADOR: ING.MARTIN ALFONSO VARGAS CARDENAS

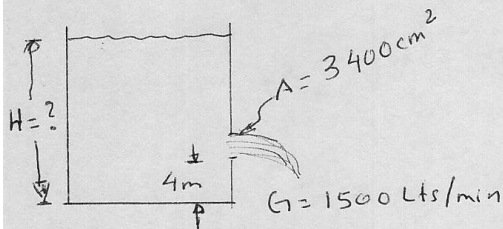
TEOREMA DE TORRICELLI

1.- De acuerdo a la siguiente figura calcula los litros por minuto que salen por el orificio del recipiente:



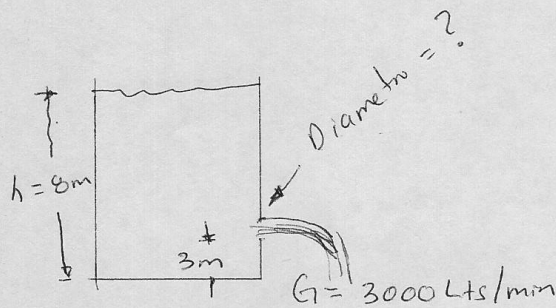
Lts/min = _____

2.- De acuerdo a la siguiente figura calcula la altura del líquido dentro del recipiente:



H = _____ metros

3.- De acuerdo al siguiente esquema y los datos que se te dan calcula el diámetro del orificio:



Diámetro = _____ metros

